

PONEDELJEK, 1.6.2020

Računal boš ploščino pobarvanega lika.

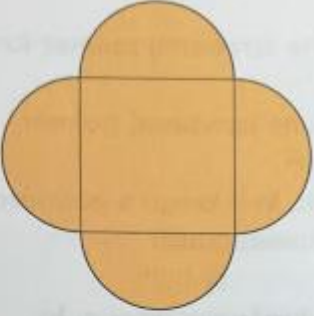
PLOŠČINA IN OBSEG POBARVANEGA LIKA

Iz ZN na strani 120 reši nalogi 19,20.

V kolikor nimaš zbirke, sem prilepila sliko.

120

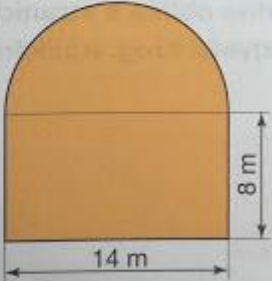
19. Izračunaj obseg in ploščino pobarvanega lika, če veš, da stranica kvadrata na sredini meri 1 m.




20. Izračunaj obseg in ploščino pobarvanega lika.

$(\pi = \frac{22}{7})$

a)



b)



V četrtek se vidimo in pregledamo 😊