

- U str. 155/UZ Preglej!


## 5 PIRAMIDA

Izvedel boš:

- kaj je piramida in katere vrste piramid poznamo,
- kako izračunamo površino in prostornino piramide.

Rok je Špeli kupil dišečo svečo v obliki piramide. Odločil se je, da jo sam zavije v darilni papir, a pri tem naletel na težave.

**RAZMISLI** Kakšno obliko mora imeti ovojni papir za takšno svečo?



- Reši v učbeniku!

<https://eucbeniki.sio.si/mat9/911/index.html>

Prizme	Tristrana prizma	Štiristrana prizma	Šeststrana prizma
Število oglišč	<input type="text"/>	<input type="text"/>	<input type="text"/>
Število osnovnih ploskev	<input type="text"/>	<input type="text"/>	<input type="text"/>
Število stranskih ploskev	<input type="text"/>	<input type="text"/>	<input type="text"/>
Število robov	<input type="text"/>	<input type="text"/>	<input type="text"/>

Preveri



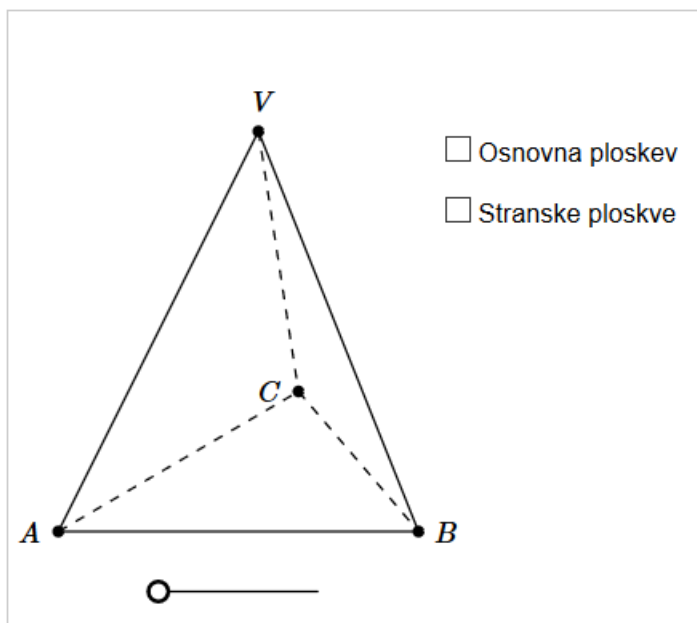
<https://eucbeniki.sio.si/mat9/911/index1.html>

Piramide	Tristrana piramida	Štiristrana piramida	Šeststrana piramida	$n$ -strana piramida
Število oglišč	<input type="text"/>	<input type="text"/>	<input type="text"/>	<input type="text"/>
Število robov	<input type="text"/>	<input type="text"/>	<input type="text"/>	<input type="text"/>
Število ploskev	<input type="text"/>	<input type="text"/>	<input type="text"/>	<input type="text"/>

Preveri

## LASTNOSTI PIRAMIDE

V šoli ali doma poišči modele piramid, ki so prikazane na naslednjem prikazu. Opazuj modele in navedi lastnosti, ki so skupne vsem opazovanim piramidam.

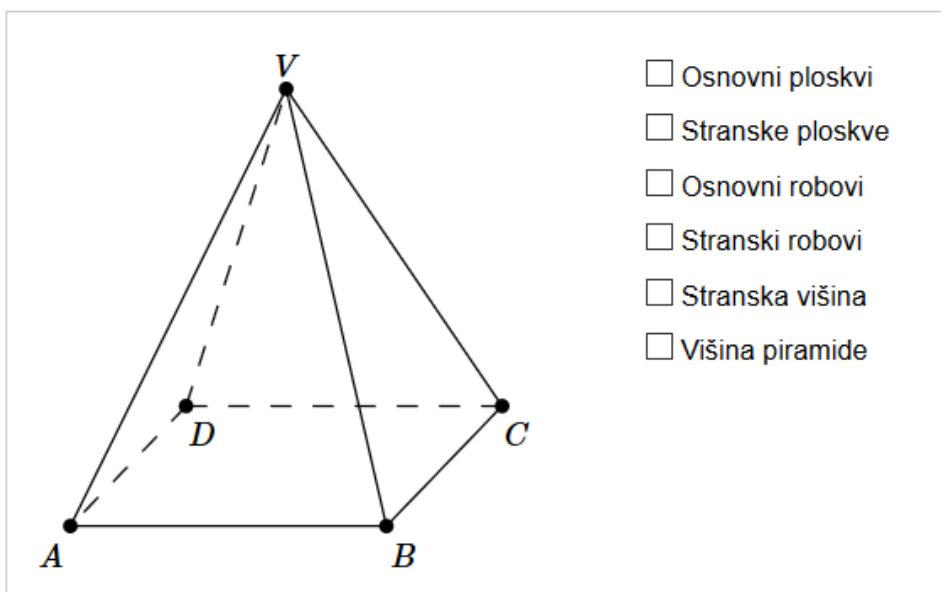


Namig

Lastnosti

Modeli

Izbiraj med pojmi. Izbrano pokaži tudi na modelih drugih piramid. Vrh piramide lahko premikaš.



Višina

Robovi

Stranska višina