

VALJ

Oglej si prikazane predmete iz vsakdanjega življenja. Opiši jih in razmisli, kaj je vsem skupnega. Opiši mejne ploskve. Še sam navedi nekaj predmetov z enako lastnostjo.



konzerva sadja



Namig

V nadaljevanju boš spoznal vrste in lastnosti valja. Ob modelih boš valj narisal in opisal.

<https://eucbeniki.sio.si/mat9/916/index.html>

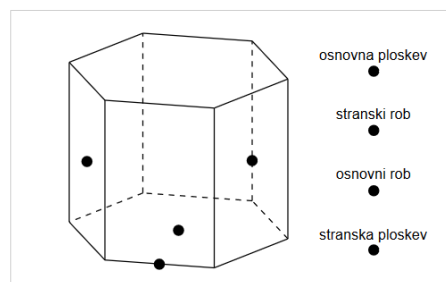
V zvezek nariši prizmo in poimenuj ploskve, robove.

Nariši krožnico in označi dele krogov.

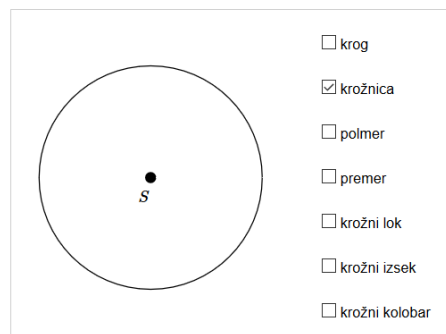
Uporabi različne barvice.

PONOVITEV


1. Povleci poimenovane dele prizme na prava mesta.



2. Izbiraj in ponovi dele kroga.



Izdelal boš model valja. Potrebuješ pravokotni list papirja, ki ga zviješ v ukrivljeno ploskev. Nato izreži še manjkajoči ploskvi. Opiši mejne ploskve valja. Pomagaj si s fotografijami.



Namig

Rešitev

Valj je telo, ki ga omejujejo ukrivljena ploskev in dva skladna kroga. Kroga sta osnovni ploskvi valja, ukrivljena ploskev je plašč valja.

<https://eucbeniki.sio.si/mat9/916/index1.html>

Slikaj in pošlji na moj elektronski naslov:

maja.kamenscak@gmail.com

