

## VALJ

Oglej si prikazane predmete iz vsakdanjega življenja. Opiši jih in razmisli, kaj je vsem skupnega. Opiši mejne ploskve. Še sam navedi nekaj predmetov z enako lastnostjo.



konzerva sadja



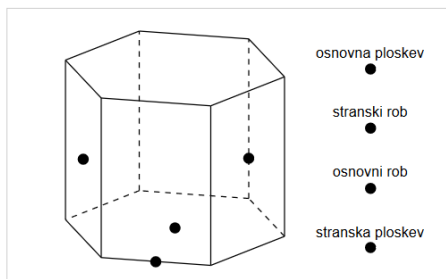
### Namig

V nadaljevanju boš spoznal vrste in lastnosti valja. Ob modelih boš valj narisal in opisal.

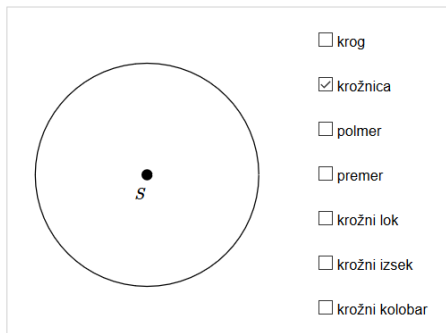
<https://eucbeniki.sio.si/mat9/916/index.html>

### PONOVITEV


1. Povleci poimenovane dele prizme na prava mesta.



2. Izbiraj in ponovi dele kroga.



Izdelal boš model valja. Potrebuješ pravokotni list papirja, ki ga zviješ v ukrivljeno ploskev. Nato izreži še manjkajoči ploskvi. Opiši mejne ploskve valja. Pomagaj si s fotografijami.

[Namig](#)[Rešitev](#)

**Valj** je telo, ki ga omejujejo ukrivljena ploskev in dva skladna kroga. Kroga sta osnovni ploskvi valja, ukrivljena ploskev je plašč valja.

<https://eucbeniki.sio.si/mat9/916/index1.html>